
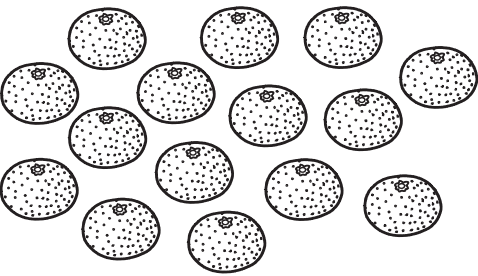



① かずを すうじて かきま
しょう。

① 

② 

③ 

② かずの おおきい ほうに
○を つけましよう。

①

12	16
----	----

() ()

②

20	17
----	----

() ()

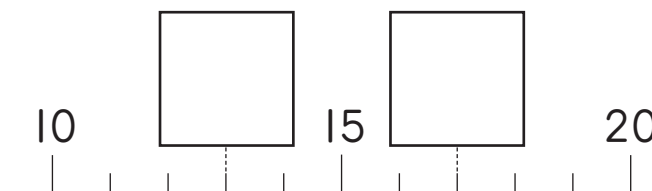
③ □に かずを かきましよう。

①

17	18	19	
----	----	----	--

②

14	13		11
----	----	--	----

③ 

④ けいさんを しましよう。

① $10 + 3$


② $13 + 2$


③ $11 + 8$

④ $13 - 3$

⑤ $18 - 2$

⑥ $17 - 5$

 「20までの かず」の がくしゅうは
たのしかったですか？

 「20までの かず」の がくしゅうは
よく わかりましたか？

