
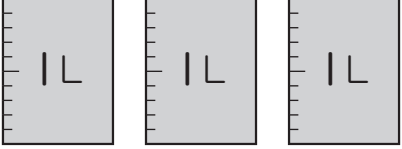

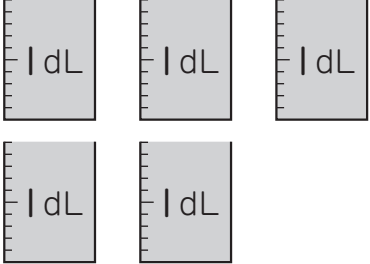



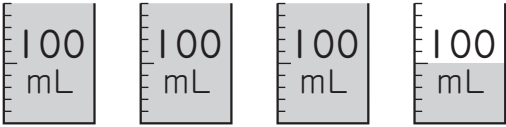
① つぎの いれものにはいる 水のかさは どれだけですか。

①  

□ L

②  

□ dL

③  

□ mL

② □にあてはまる かさの たんいを かきましよう。

① やかん…………… 2 □

② ペットボトル…………… 500 □

③ □にあてはまる ^{かず}数を かきましよう。

① 1L = □ dL

② 1dL = □ mL

③ 1L = □ mL

④ 200mL = □ dL

⑤ 1L4dL = □ dL

④ あぶらが かに 1L6dL, びんに 4dL はいって います。



① あわせると どれだけに なりますか。
(しき)

(答え) □

② ちがいは どれだけですか。
(しき)

(答え) □

(かさ)の 学しゅうを ふりかえって

★ この 学しゅうは たのしかったですか。

(はい まあまあ すこし いいえ)

◆ この 学しゅうは よく わかりましたか。

(はい まあまあ すこし いいえ)

● じゅぎょうの 中で, おもしろかった ことや わかった ことなどの かんそうを かきましよう。