








① □に あてはまる ことばをかきましょう。


① 3本の ^{ちよくせん}直線で ^{かたち}かこまれて いる 形を  と いいます。

② 4本の ^{ちよくせん}直線で ^{かたち}かこまれて いる 形を  と いいます。

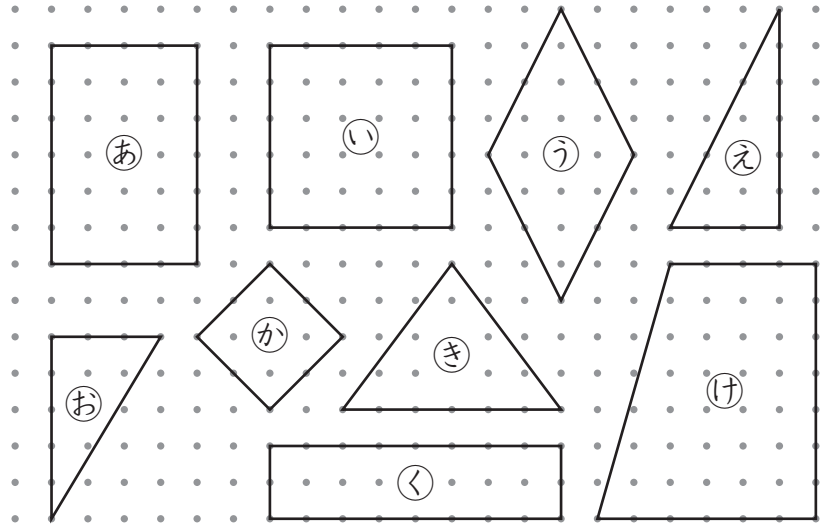
③ ^{さんかくけい}三角形や ^{しかくけい}四角形で、まわりの ^{ちよくせん}直線を 、かどの ^{てん}点を  と いいます。

④ かどが みんな ^{ちよつかく}直角に なって いる 四角形を  と いいます。

⑤ かどが みんな  で、^{へん}辺の  が みんな 同じ 四角形を ^{せいほうけい}正方形と いいます。

⑥ |つの かどが 直角に なって いる 三角形を  と いいます。

② ^{ちようほうけい}長方形、正方形、直角三角形を みつけましょう。

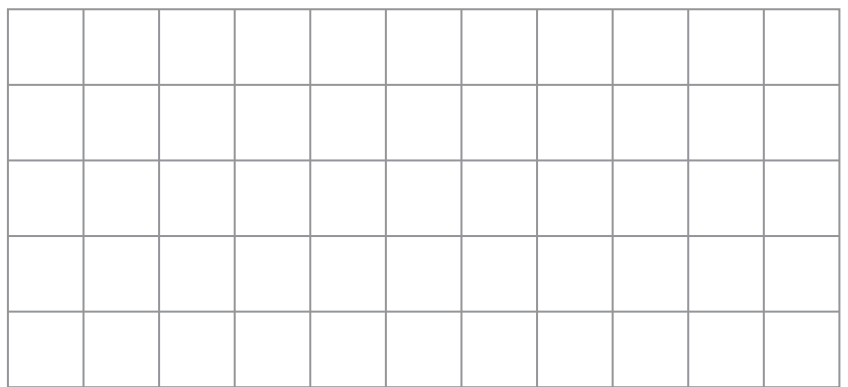


- ・長方形 () と ()
- ・正方形 () と ()
- ・直角三角形 () と ()

③ つぎの 形を ほうがんしに かきましよう。

① 2つの 辺の 長さが 3cm と 4cm の 長方形

② 直角に なる 2つの 辺の 長さが 2cm と 4cm の 直角三角形



(三角形と 四角形) の 学しゅうを ふりかえって

★ この 学しゅうは たのしかったですか。

(はい まあまあ すこし いいえ)

◆ この 学しゅうは よく わかりましたか。

(はい まあまあ すこし いいえ)

● じゆぎょうの 中で、おもしろかった ことや わかった ことなどの かんそうを かきましよう。