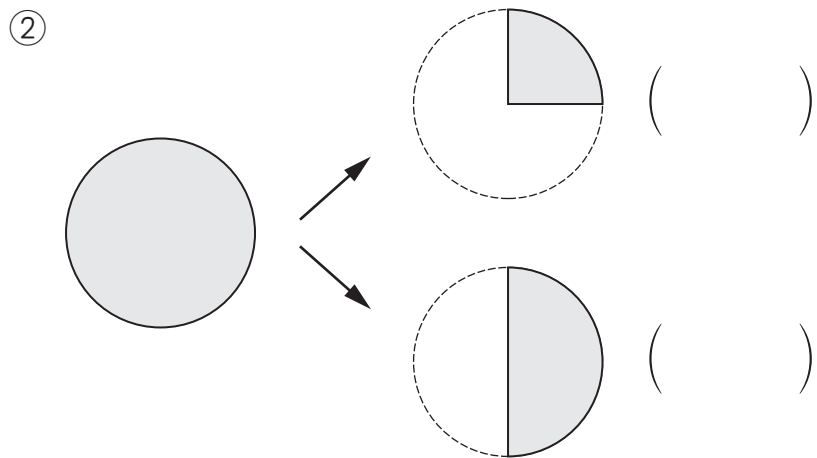
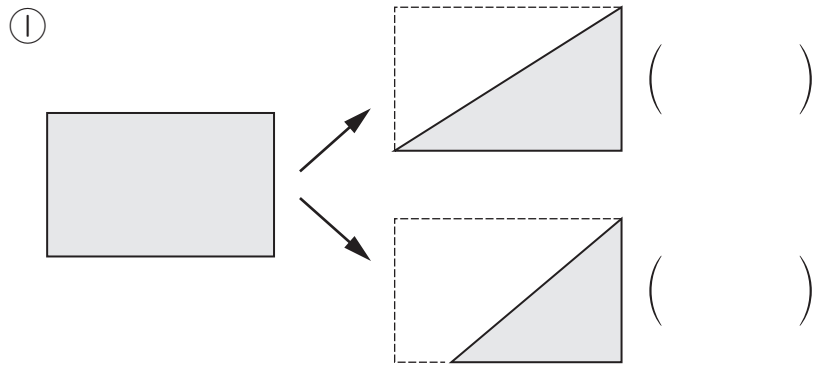


① ^{はんぶん} 半分の大きさに なって いる ほうに ○を つけましょう。



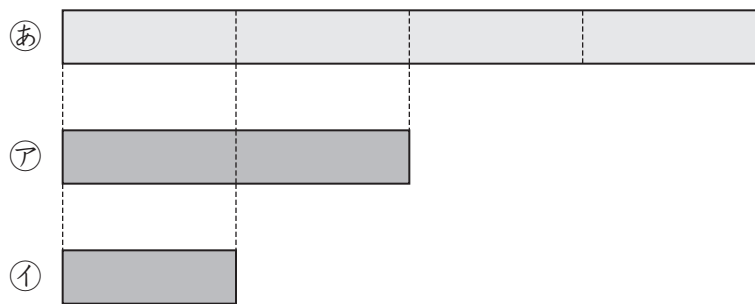
② □に あてはまる ^{かず} 数や ^{おな} ことばを かきましょう。

① もとの 大きさを ^{おな} 同じように □つに分けた 1つ分を、
もとの 大きさの 二分の一と いい、
□と かきます。

② $\frac{1}{2}$ や $\frac{1}{4}$ のような 数を □と いいます。

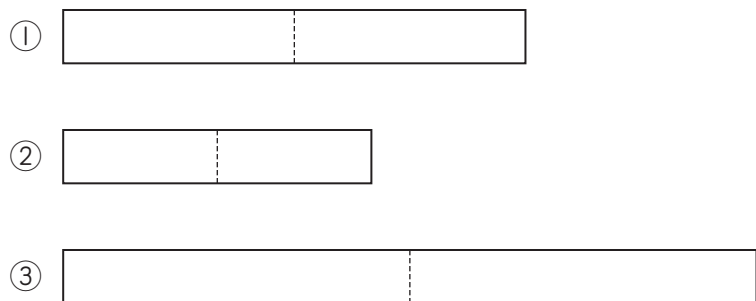
③ $\frac{1}{4}$ の □つ分は もとの 大きさに なります。

③ ㉗, ㉘の テープの 大きさは, ㉙のテープの 何分の一の 大きさですか。 分数で 答えましょう。




㉗ ㉘

④ つぎの テープの $\frac{1}{2}$ の 大きさに 色を ぬりましょう。



⑤ つぎの 大きさに 色を ぬりましょう。



(分数) の 学しゅうを ふりかえって

★ この 学しゅうは たのしかったですか。

(はい まあまあ すこし いいえ)

◆ この 学しゅうは よく わかりましたか。

(はい まあまあ すこし いいえ)

● じゅぎょうの 中で, おもしろかった ことや わかった ことなどの かんそうを かきましょう。