

◆それぞれの問題について、マークに○をつけましょう。

😊自信あり 😊まあまあ自信あり 😞少し自信なし 😞自信なし

3年

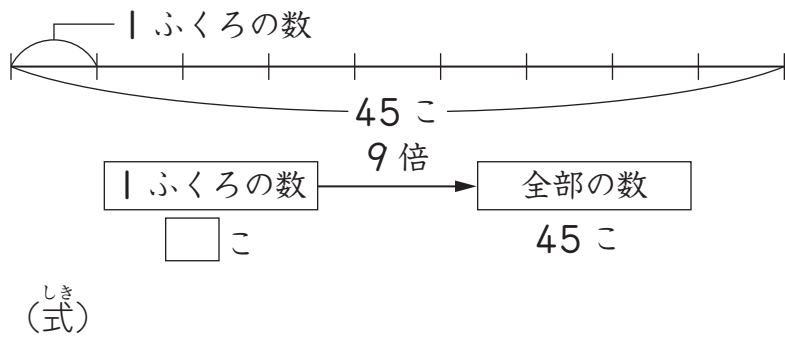
＊かくれた数はいくつ (2)

クラス	名
	組前

① 同じ数ずつクッキーがはいっているふくろが9ふくろあります。全部のクッキーをあわせると、45こあるそうです。

1ふくろに、クッキーは何こはっていますか。

※下の図を見て考えましょう。




答え こ
😊 😊 😞 😞

② たかしさんは、同じ画用紙を7まい買って、56円はらいました。

1まい何円の画用紙を買いましたか。

※図をかいて考えましょう。



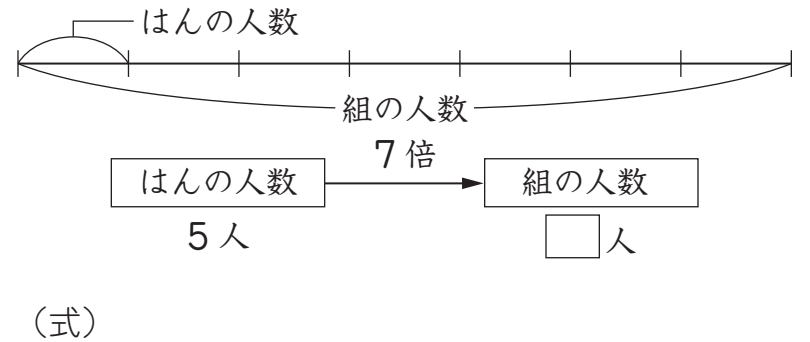
(式)

答え 円
😊 😊 😞 😞

③ まいさんの組で、きゅう食を食べるときに7つのはんに分かれると、どのはんも5人ずつになりました。

まいさんの組の人数は何人ですか。


※下の図を見て考えましょう。



答え 人
😊 😊 😞 😞

④ 竹ひごがあります。8cmずつに切ると、ちょうど5本できました。はじめの竹ひごの長さは何cmでしたか。

※図をかいて考えましょう。



(式)

答え cm
😊 😊 😞 😞

(かくれた数はいくつ (2)) の学習をふりかえって

★ この学習は楽しかったですか。

(はい まあまあ 少し いいえ)

● じゅぎょうの中で、おもしろかったことやわかったことなどのかんそうをかきましょう。

◆ この学習はよくわかりましたか。

(はい まあまあ 少し いいえ)