

◆各問題について、自分で自信があるかないか、マークに○をつけましょう。

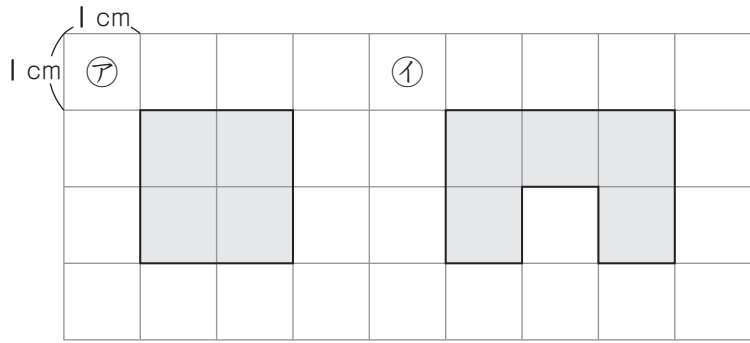
😊 自信あり    😊 まあまあ自信あり    😞 少し自信なし    😞 自信なし

# 4年

## 10. 面積

クラス	名
	組前

① 下の方がんの | 目は 1cm です。  
次の図形の面積は、それぞれ何 cm<sup>2</sup> ですか。



ア (                    )      イ (                    )  
😊    😊    😞    😞

② □ にあてはまる面積の単位をかきましょう。

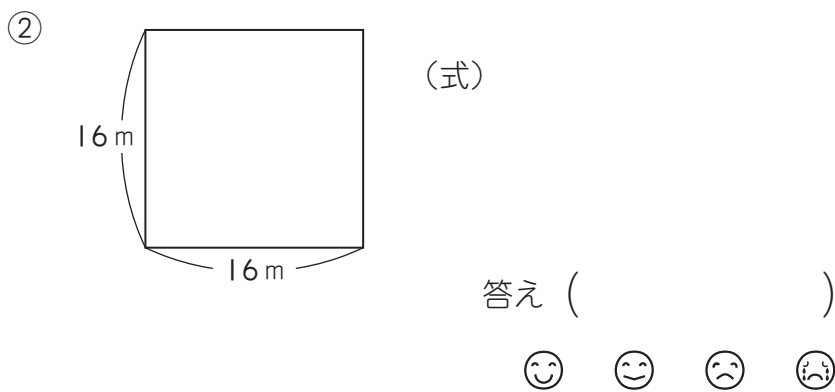
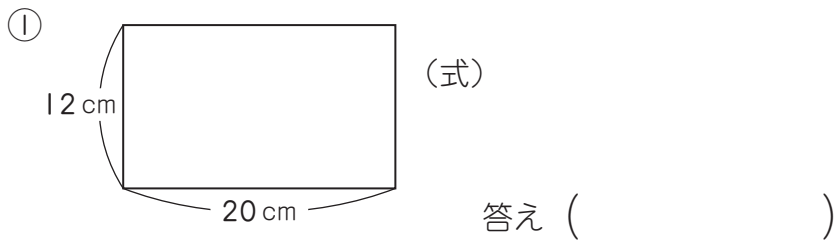
① ノートの表紙の面積 .....460

② 市の面積 .....37

③ 教室の面積 .....84

😊    😊    😞    😞

③ 次の長方形と正方形の面積を求めましょう。



④ たて 8cm, 横 14cm の長方形があります。  
この長方形と面積が同じで、たての長さが 7cm の長方形の横の長さは何 cm ですか。

(式)      答え (                    )  
😊    😊    😞    😞

⑤ □ にあてはまる数をかきましょう。

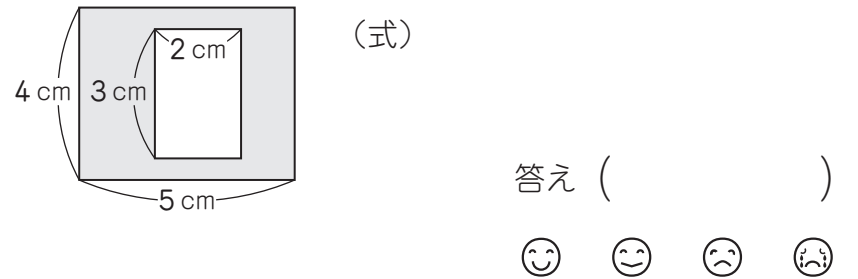
① 1 km<sup>2</sup> =  m<sup>2</sup>  
② 1 ha =  m<sup>2</sup>  
😊    😊    😞    😞

⑥ 次の面積を、〔    〕の中の単位で求めましょう。

① 1 辺が 70m の正方形の土地〔a〕  
(式)      答え (                    )

② たて 400m, 横 600m の長方形の山林〔ha〕  
(式)      答え (                    )  
😊    😊    😞    😞

⑦ 次の図形のかげをつけた部分の面積を求めましょう。



### ( 面積 ) の学習をふりかえって

★ この学習は楽しかったですか。

( はい    まあまあ    少し    いいえ )

● 感想を自由にかきましょう。(じゅぎょうの中で、おもしろかったことや気づいたことなど)

◆ この学習はよくわかりましたか。

( はい    まあまあ    少し    いいえ )